

# 桂林市2024年中考第一次适应性训练试卷

## 道德与法治、历史

(考试用时:120分钟;考分:道德与法治60分、历史60分,总分120分;考试形式:闭卷笔试)

### 注意事项:

1. 试卷分为试题卷和答题卡两部分,在本试卷上作答无效。
2. 答题前,请认真阅读答题卡上的注意事项。
3. 考试结束后,将本试卷和答题卡一并交回。

### 道德与法治(60分)

#### 第I卷(选择题,共30分)

在每小题给出的四个选项中,只有一项是最符合题意的。请你将其选出并在答题卡上用2B铅笔将对应题目的答案字母所在方框涂黑。(共15小题,每小题2分,共30分)

1. 在毕业典礼上,九年级的小桂创作了“呕心沥血,迎来满园春色;精工巧艺,育出一代英才”的对联。最适合该对联的横批应为  
A. 爱在家人间 B. 工匠精神美名扬 C. 师恩永难忘 D. 友谊之树常青
2. 作为一名培智学生,梁钰珂在长达3年的滚球训练中,迎难而上,从未放弃。最终,在全国滚球比赛中斩获3块金牌,以辛勤的汗水书写了闪耀的青春。梁钰珂的事迹启示我们  
A. 应树立生命至上的观念 B. 要善于发掘生命的力量  
C. 挫折是人生成长的障碍 D. 面对挫折我们无能为力
3. 随着科技的不断发展,有人用AI技术“复活”已逝亲人,诉说思念;有人用AI生成图画、文章;也有人为了博眼球、蹭流量蓄意编造传播谣言,被依法处理。对待AI技术青少年应该  
A. 辩证思考,提高媒介素养 B. 顺其自然,发展AI技术  
C. 亲近社会,远离AI技术 D. 严格执法,维护网络安全
4. “中国好人”谢运良曾说过:“淋过雨的人,会习惯为别人撑伞。”与这一观点相匹配的做法是  
A. 尊重他人,文明有礼 B. 行己有耻,遵守规则  
C. 爱岗敬业,止于至善 D. 心怀善意,关爱他人

2024年3月19日,香港特别行政区立法会全票通过《维护国家安全条例》。请根据上述材料回答5~6题。

5. 全票通过《维护国家安全条例》体现了  
A. 法律由国家制定或认可 B. 香港从现在开始重视国家安全  
C. 公民在法律面前一律平等 D. 法律由国家强制力保证实施

6. 这一做法有利于
- ①香港居民依法行使维护国家安全的权利      ②保护香港居民的根本福祉  
③香港更好地融入国家发展大局,优势互补      ④推动“一国两制”实践行稳致远
- A. ①②③                      B. ①②④                      C. ①③④                      D. ②③④
7. 《广西壮族自治区实施〈中华人民共和国消防法〉办法》于2023年7月1日正式施行后,某服装加工厂内违规停放电动自行车进行充电,被处以5000元的罚款,这是广西开出的首张罚单。该工厂的行为
- A. 对社会有危害性,是民事违法行为                      B. 违反行政法规,是一般违法行为  
C. 受到罚款的处罚,是犯罪行为                      D. 扰乱交通秩序,是行政违法行为
8. 宪法与我们的生活息息相关,我们要增强宪法意识,热爱宪法,捍卫宪法。下列行为不能体现这一观点的是
- A. 小桂认真听课,积极完成学习任务  
B. 小桂一家在饭店就餐后主动索要发票  
C. 公交车有人钱包丢失,小桂答应司机进行搜身的要求  
D. 小桂拨打政府热线反映路面塌陷问题
9. 近年来,检察机关办理了昆山反杀案等一批正当防卫有影响性的案件,向社会彰显“法不能向不法让步”的理念,切实矫正“谁能闹谁有理”“谁死伤谁有理”的错误倾向。这一做法
- A. 使每一个司法案件都体现公平正义                      B. 彰显了司法捍卫社会公平正义  
C. 体现了法治比德治更具有号召力                      D. 不利于维护弱者的合法权益
10. 广西自贸试验区自成立以来,聚焦面向东盟,发展新兴产业集群;畅通陆海新通道,发展之路越走越宽;沿边开放,跨境产业链越织越牢,助推广西实现高质量发展。此举
- ①体现了国际竞争的实质是自贸区的设立      ②增强了广西的自我发展能力  
③彰显了我国深化改革、扩大开放的决心      ④顺应了经济全球化的发展趋势
- A. ①②③                      B. ①②④                      C. ①③④                      D. ②③④
11. 桂林市政府工作报告指出,2023年我市继续扩大优质教育资源供给,新增学位1.1万个,让孩子们在家门口就能上好学。桂林市重视教育是基于
- A. 教育是人民幸福之基,社会和谐之本                      B. 办好中国的事情关键在于教育  
C. 教育是促进人全面发展的根本途径                      D. 政府要满足所有人的教育期待
12. 我国越来越多的乡村设立村民议事会,积极推动民事民提、民事民议、民事民办、民事民管,村里的许多问题都通过“议事”得到解决。这体现我国坚持
- A. 基层群众自治制度  
B. 民族区域自治制度  
C. 人民代表大会制度  
D. 中国共产党领导的多党合作和政治协商制度

13. 某班级开展了主题为“发展中的桂林人口现状”的探究式学习,同学们结合查找到的人口现状,分析其可能带来的影响,其中正确的是
- A. 大学文化程度人口增长 59%→提高劳动者素质
  - B. 流动人口增长 52.57%→有利于消除城乡差距
  - C. 城镇人口增长 13.82%→更好地优化人口结构
  - D. 65 岁及以上人口增长 4.57%→带来充足的劳动力资源
14. 2023 年是“一带一路”倡议提出的十周年。十年来,因为一带一路,巴基斯坦有了第一条地铁线,东非有了第一条高速公路,马尔代夫有了第一座跨海大桥……越来越多的国家和地区通过这一倡议分享中国发展红利。共建“一带一路”的实践表明我国
- A. 是促进世界经济健康发展的决定性力量
  - B. 为构建人类命运共同体贡献中国智慧和力量
  - C. 积极参与全球治理,在世界舞台发挥主导作用
  - D. 积极构建以国际大循环为主体的新发展格局
15. “新职人”一词入选“2023 年度十大网络用语”。“新职人”是指具有特定专业技能和经验背景、从事新兴职业的人。这启示我们
- A. 坚持个人兴趣爱好,只选新兴职业
  - B. 应避免就业竞争,坚持自主创业
  - C. 努力提升自身素质,积极迎接挑战
  - D. 顺应时代的变化,摒弃传统就业

## 第 II 卷(非选择题,共 30 分)

时政速递:2023 年 9 月,《桂林世界级旅游城市建设发展规划》(下称《规划》)获国务院批复。根据《规划》,到 2025 年,桂林世界级旅游城市建设取得突破性进展;到 2035 年,桂林世界级山水旅游名城、文化旅游之都、康养休闲胜地和旅游消费中心全面建成,跻身世界级旅游城市第一方阵。

某校九年级的学生围绕“桂林市打造世界级旅游城市”为主题,开展了“山水桂林我同行”的“大思政课”实践学习,请你一同参与完成学习。

### 实践一:山水桂林显文明

#### 16. (8分)

同学们来到浪石村委全家洲村,采访了“漓江守护者”杨有发。以下是同学们的采访片段节选:

采访学生:杨叔叔,你好!你是从何时开始这项工作的?

杨有发:大概 16 年前,我成了村里第一批漓江保洁员。从那以后,我每天早上无论刮风下雨,都要负责 6 公里长的江面和河堤清洁工作,什么脏活累活我都冲在一线。

采访学生:据我了解,你即使退休后也一直在义务劳动,你为什么会做这样的选择?

杨有发:我是一名中国共产党党员,保护漓江是我的责任,也是我对家乡热爱的一种表达。

同学们采访后感触颇深,拟发出“向漓江守护者杨有发学习”的倡议。请你结合采访从不同角度提炼四点倡议内容。(8分)

## 实践二：山水桂林我关注

17. (10分)

材料一：习近平强调，“漓江是大自然赐予中华民族的一块宝地，一定要保护好。”近年来，桂林市在保护漓江方面做出了各种努力。

以下是同学们搜集到的资料卡：

法治漓江	数字漓江
立法先行，聚力“保护漓江”专项立法，保护桂林漓江风景名胜区全面进入法治化轨道	加快建设数字漓江5G实时监管平台，完成全方位、全时段监控

(1)上述做法对桂林打造世界级旅游城市有何启示?(4分)

材料二：2024年春节假期，众多游客选择来桂林打卡旅游。但“热辣滚烫”的桂林旅游，也依然存在着一些不和谐的音符：如个别餐馆菜品缺斤少两、阴阳菜单；酒店(民宿)卫生条件差，与宣传不符等。

(2)请从“德”与“法”的角度，简要评价个别商家的行为。(4分)

(3)为了维护桂林旅游“热辣滚烫”的景象，请你为政府提出一条长久发展之计。(2分)

## 实践三：山水桂林我同行

18. (12分)

在北京的小林一家决定到桂林旅游参观，出发前就路线问题进行了讨论：

小林：“除了美丽的山水外，我想好好感受桂林这座历史文化名城的文化底蕴。”

爸爸：“我们也可以尝试重走长征路，追寻革命先辈足迹。”

(1)请你为小林一家推荐一条适合他们的旅游路线并简要说明理由。(4分)

小林及家人在游览中不仅尝到了好喝的“中国咖啡”油茶，听到了融合现代流行音乐的壮乡山歌，还住进了瑶寨的民宿里，感受民俗民风。村民告诉小林：“以前我们连田都不会种，多亏壮族老大哥手把手教，我们不仅学会了种田，还掌握了种茶技术；现在村里还成立了茶叶专业合作社，大家的生活越来越好了。”小林听后发出赞叹：“桂林真是一个有特色的地方！”

(2)结合小林一家的游览见闻，简要分析小林发出赞叹的原因。(6分)

(3)桂林之行令小林印象深刻，他想向同学们推荐桂林的风景和文化，请你为他拟一条推荐标语。(2分)

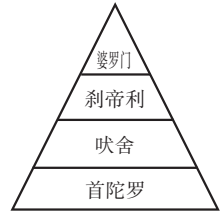


10. 博鳌亚洲论坛2024年年会,于3月28日在海南博鳌开幕。此次年会以“亚洲与世界:共同的挑战,共同的责任”为主题。与这一主题对应的中国外交工作是

- A. 致力于共商共建共享的全球治理观                      B. 加强同发展中国家经济合作  
C. 改善和发展与同边国家友好关系                      D. 积极发展与欧盟国家的关系

11. 根据右图,分析古代印度种姓制度的特点是

- A. 逐级分封  
B. 以血缘为纽带  
C. 等级森严  
D. 以土地为纽带



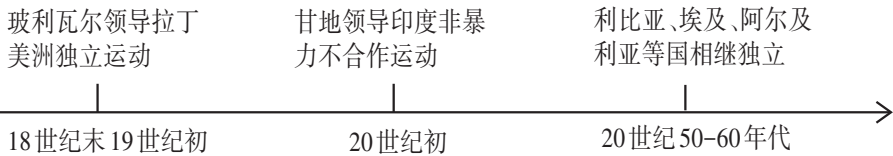
12. 日本的大化改新规定:废除一切私地、私民,将土地、部民收归国有,成为公地、公民。这一举措

- A. 增强了中央实力                      B. 提高了贵族地位  
C. 导致了土地兼并                      D. 促成了幕府统治

13. 英国资产阶级革命确立了君主立宪制;北美通过独立战争结束了殖民统治;法国大革命传播了资产阶级人权思想。由此可以得出,资产阶级革命具有

- A. 曲折性                      B. 反复性                      C. 进步性                      D. 文明性

14. 下图中的历史事件,反映的历史现象是



- A. 无产阶级斗争    B. 民族解放运动    C. 社会主义革命    D. 国际工人运动

15. 某同学撰写的历史小论文分成三个板块,其标题分别为“撕毁《凡尔赛合约》”“签署《联合国宣言》”“召开雅尔塔会议”。据此判断小论文的主题是

- A. 巴黎和会召开                      B. 冷战格局的形成  
C. 欧洲走向联合                      D. 第二次世界大战

**二、非选择题(16~18题,共30分)请将答案填写在答题卡上。**

16. (10分)了解人类迁徙的历史,能帮助我们理解人类文明的进程,获取发展的经验。阅读下列材料,回答问题。

材料一

	<p>西晋末年以来,大批北方人民为躲避战祸南下。到东晋后期,长江中下游地区布满了南迁的流民,尤以江苏一带为多;有一部分流民继续南下,进入今天的浙江、福建和广东等地。</p> <p>——摘编自人民教育出版社义务教育教科书《中国历史 七年级上册》</p>
--	---

(1)指出材料一中图片和文字信息共同反映的历史现象,及这一现象所持续的时间。(3分)

材料二

	<p>几个世纪以来,地中海地区一直是亚洲、非洲和欧洲大陆旅行者的交会处。人们渡海移居克里特岛的历史可以追溯到1.1万年以前。著名的迦太基人汉尼拔曾带着非洲战象穿越地中海。从8世纪开始,穆斯林频繁进入西班牙、葡萄牙、意大利南部和马耳他。</p> <p>——摘编自罗宾·科恩:《3000年人类迁徙史》</p>
--	--

(2)地中海位于地图中的\_\_\_\_\_ (填写字母)。(1分)根据材料找出地中海地区交流的三种类型。(3分)

材料三

	<p>城镇人口是指居住于城市、集镇的人口,主要依据人群的居住地和所从事的产业进行归类。“城镇人口”所从事的产业为非农业生产性产业为主的人群及其家庭。1990年以后,中国大陆在统计学领域以“城镇人口”用语,代替之前“非农业人口”。</p>
--	--

(3)根据材料三并结合所学,分析中国人口迁徙带来的社会变化。(3分)

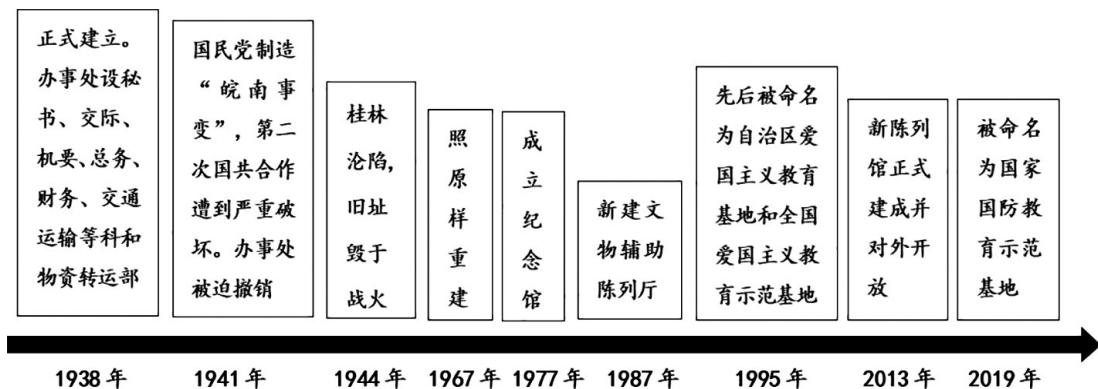
17. (9分)学校历史社团开展“寻访红色文化”主题实践活动,进行活动成果交流。

【祭英烈 思奋进】祭拜英烈搜集、整理的资料

<p>平乐中学校园内的廖梦樵雕像</p>	<p>灌阳酒海井红军烈士墓</p>	<p>灵川桂北人民武装斗争纪念碑</p>
<p>廖梦樵,中国共产党广西早期革命活动重要领导人。1916年,进入平乐八县合立中学(今平乐中学)读书。1919年五四运动爆发,他组织在校学生和社会进步青年,举行示威游行,声援北京学生。1926年加入中国共产党。1927年在梧州英勇就义。</p>	<p>2017年9月16日,从灌阳酒海井里清理出部分人体骸骨。经鉴定,这些遗骸是1934年被国民党反动派杀害的长征红军战士的遗骸,其中最小的战士年仅15岁。酒海井第一批红军烈士遗骸被安葬到酒海井红军烈士墓中。</p>	<p>桂北人民武装斗争纪念碑,是为纪念桂北抗日游击队和解放战争时期的桂北游击队而修建的。纪念碑高16米,碑身刻有“桂北人民武装斗争纪念碑”11个金色大字,碑顶矗立着振臂呐喊、威震桂北的5尊游击队员铜像。</p>

(1)根据上述资料,写出三地英烈分别参与的革命事件。(3分)选择其中一处纪念场所,结合英烈的事迹谈谈感悟。(3分)

【寻旧址 识历史】参观桂林八路军办事处纪念馆绘制的示意图：



(2) 依据示意图，结合八路军办事处的发展历程，分析设立纪念馆的意义。(3分)

18. (11分) 治水不仅是水利建设，也是一项重要的国家政治活动。阅读下列材料，回答问题。

材料一 (战国时期)在历任秦王的开拓和经营下，巴蜀地区成了农业发达、经济繁荣的富庶之地，史称“秦并六国，自蜀始”。在蜀守李冰修建都江堰之前，成都平原中部仍有很多沼泽和河滩地，成都平原北部多受水灾，多有沼泽。在秦国统治巴蜀后，政府大力修建水利工程，巴蜀地区耕地面积不断扩大，川西平原沃野千里，号为“陆海”。

——摘编自秦小华《秦经营巴蜀取得的成就》

(1) 根据材料一并结合所学，分析“秦并六国，自蜀始”这一观点提出的依据。(3分)

材料二 20世纪初，田纳西河流域水土流失和洪水泛滥十分严重，经济条件落后。罗斯福总统提出对该地区进行综合开发和治理。1933年，成立田纳西河流域管理局，利用国会拨款，招收大批失业工人，兴建水库、水坝及水电站，旨在控制洪水泛滥、开凿内陆水道和生产廉价电力等。

——摘编自《中国大百科全书第三版》

(2) 根据材料二并结合所学，指出成立田纳西河流域管理局的目的。(3分)

材料三 水是公共产品，政府既不能缺位，更不能手软，该管的要管，还要严管、管好。

——2014年3月习近平在中央财经领导小组第五次会议上的讲话

(3) 综合上述三则材料并结合所学，以“治水”为主题提出观点，选择材料中两次治水的相应史实进行论述。(要求：观点明确，史论结合，逻辑清晰，总结提升。5分)

# 桂林市2024年中考第一次适应性训练参考答案及评分标准

## 历史

### 一、选择题 (1~15题, 每题2分, 共30分)

题号	1	2	3	4	5	6	7	8	9	10	11	12	13	14	15
答案	B	B	C	A	A	B	D	C	D	A	C	A	C	B	D

### 二、材料分析题 (共30分)

16. (10分)

(1) 北民南迁 (1分)。从西晋末年到东晋后期 (2分)

(2) B (1分)。人口迁徙、战争冲突、宗教传播。 (3分)

(3) 城镇人口比例提高; 城镇化; 工业和商业的发展。 (3分)

17. (9分)

(1) 五四运动; 长征; 抗日战争; 解放战争。 (任选三件事) (3分)

感悟: (选择1分, 史事1分, 感悟1分, 共3分, 言之有理即可)

廖梦樵: 民族危机的关键时刻, 青年人勇当先锋。表现出鲜明的爱国主义精神。

酒海井红军烈士: 红军战士在长征中, 不畏艰险, 勇于牺牲。说明他们有坚定的革命信仰。

桂北游击队: 游击队员为中华民族的独立和解放而战。表现出不畏强敌, 坚韧不拔的抗争精神。

(2) 意义: 有助于我们了解抗战历史。体现了对历史的重视与保护。具有教育功能。 (3分)

18. (11分)

(1) 秦国统治巴蜀后, 积极治理水患, 兴修水利工程。使得巴蜀地区成为千里沃野; 有利于农业发展。农业发展为秦国兼并六国、统一全国奠定了坚实的物质基础。 (3分)

(2) 增加就业机会。治理环境。发展经济。 (3分)

(3) 【示例一】

论点: 治水需要国家决策。 (1分)

论述: 战国时期, 秦国统治巴蜀后, 蜀守李冰主持下修建都江堰在。1933年, 美国政府成立田纳西河流域管理局, 利用国会拨款开展治理工作。 (3分)

因此, 基础建设需要国家和政府的领导。 (1分)

【示例二】

论点: 治水有利于改善环境。 (1分)

论述: 战国时期, 成都平原中部有很多沼泽和河滩, 北部多受水灾, 百姓多受其苦, 都江堰的修建解决了水患问题。20世纪初, 田纳西河流域水土流失和洪水泛滥十分严重, 兴建水库之后控制了洪水泛滥, 保证了周边民众安全。 (3分)

因此, 要根据实际情况制定治水方案。 (1分)

【示例三】

论点: 治水有利于经济发展。 (1分)

论述: 战国时期都江堰修建之后, 巴蜀地区耕地面积不断扩大, 川西平原沃野千里, 号为“陆海”, 农业有极大的发展, 经济繁荣; 1933年田纳西水电站修建之后, 不但控制了洪水泛滥, 还兼具内陆水道、发电等功能, 极大推动当地经济发展。 (3分)

因此, 水利建设要与可持续发展相结合。 (1分)