

历史(75分)

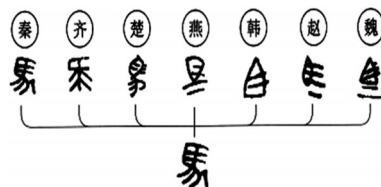
一、选择题(1~18题,每小题2分,共36分。下列各题四个选项只有一个符合题意,请你仔细判断,用2B铅笔把对应题目的答案标号涂黑。)请将答案填写在答题卡上

1. 良渚古城内的墓地中出土了许多精美的玉器,和城外随葬品稀少的普通墓地对比鲜明。据此推断良渚古城出现了

- A. 私有制度 B. 早期国家
C. 氏族社会 D. 原始农业

2. 右图为秦始皇推行的一项措施。这一措施有利于

- A. 交通发展 B. 边疆开发
C. 文化交流 D. 休养生息



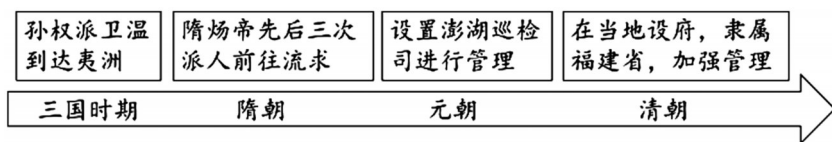
3. 鉴真在第五次东渡失败后辗转来到桂林,在开元寺讲经弘法。鉴真东渡出海的目的地是

- A. 日本 B. 天竺 C. 希腊 D. 罗马

4. 释奠礼是中国古代学校祭祀先圣先师的典礼,开始于周代。十六国时期,氏族贵族在皇帝苻坚带领下举行释奠礼,“祀先师孔子”。这反映了

- A. 政权分立 B. 民族交融 C. 江南开发 D. 南北对峙

5. 下图呈现了古代史上中国某一地区发展的相关事件。据此判断这个地区是



- A. 新疆 B. 台湾 C. 西藏 D. 蒙古

6. 19世纪末发展起来的义和团,曾提出“扶清灭洋”口号,开展打击外国侵略者的斗争。这一现象反映出当时中国社会的主要局面是

- A. 君主专制加强 B. 民族危机加剧 C. 军阀割据混战 D. 国民革命失败

7. 戊戌变法时期,梁启超等维新派人士曾呼吁:“今日自强之道,自以兴学为先。”这表达了维新派

- A. 发动革命的诉求 B. 组建新军的愿望
C. 教育强国的理念 D. 建立共和的主张

8. 20世纪30年代,《义勇军进行曲》、《松花江上》、《黄河大合唱》等歌曲先后问世并广为传唱。这些歌曲共同传递的时代旋律是

- A. 宣传民主科学 B. 推广实业救国 C. 开展抗日救亡 D. 争取和平建国

9. 1948年冬,山东农民唐和恩带领村里的小车队,为前线解放军运送物资,途经了江苏、安徽等省份,行程2500多千米,到达淮海战役前线。这说明解放军作战的有利条件是

- A. 人民的支持 B. 武器的先进 C. 国际的帮助 D. 正确的战术

10. 20世纪50年代,农民在互助组的基础上,将土地入股,畜力、农具作价入社,由社统一经营,社员集体参加生产。这反映出当时的农村正在

- A. 进行土地改革 B. 开展生产合作 C. 实行赎买政策 D. 推广包产到户

11. 1949年,毛泽东提出不承认国民党政府同各国建立的旧外交关系,把帝国主义在中国的残余势力清除干净之后再考虑建交。这反映新中国的外交要实现

- A. 独立自主 B. 和平共处 C. 求同存异 D. 团结合作

12. 在中央大力支持下,港珠澳大桥、深中通道等超级工程先后通车,港澳与内地“一小时生活圈”加速成型,加强了内地与港澳经济交流合作。这体现了我国
- A. 社会主义制度建立
B. 国企改革有序推进
C. 西部大开发的进行
D. 加强区域联动发展

13. 13世纪,阿拉伯人的著作《代数学》传入欧洲,成为欧洲大学的数学教材。《光学集锦》传入欧洲,推动了近代早期科学的发展。可见,古代阿拉伯

- A. 统治疆域辽阔
B. 翻译事业兴盛
C. 科技成就丰富
D. 大学教育普及

14. 下列主题中,最适合填入右表“▲”处的是

- A. 中世纪社会的进程
B. 世界市场形成的表现
C. 资本主义制度确立
D. 社会保障制度的完善

▲
1689年英国颁布《权利法案》
1787年美国制定联邦宪法
1789年法国颁布《人权宣言》

15. 14世纪中叶以后,欧洲的封建领主出租自营地,一些富裕农民通过承租、购买领主的土地将土地集中起来,雇用农民耕种,并将产品推向市场。这一现象被称为

- A. 封君封臣
B. 租地农场
C. 手工工场
D. 现代工厂

16. 观察右图,当时欧洲所处的历史阶段是

- A. 一战爆发前
B. 一战结束后
C. 冷战的时期
D. 欧洲的联合



17. 巴拿马运河位于巴拿马共和国中部,连接大西洋和太平洋。1999年底,巴拿马从美国手中收回运河区全部主权。这一维护国家主权的斗争发生在

- A. 西亚
B. 东亚
C. 非洲
D. 拉美

18. 2026年2月,联合国秘书长古特雷斯强烈谴责美国和以色列对伊朗发动的大规模军事打击,呼吁立即停止敌对行动,重返谈判轨道。由此可知,联合国的主张是

- A. 以协商解决冲突
B. 推动世界多极化
C. 促进经济全球化
D. 尊重文明多样性

二、非选择题(第19题11分,第20题13分,21题15分,共39分。)请将答案填写在答题卡上。

19. (11分)戏剧的产生与发展,成为中国文化的重要组成部分。阅读材料,回答问题。

材料一:

剧种	简况
①	在唐代已经出现。北宋时期在唐代的基础上,形成以滑稽调笑为主的表演形式,南宋时期的形式有歌有舞。在宋代、金院本和诸宫调的基础上,元朝时期的表演融合多种音乐、说唱、舞蹈等艺术日益成熟。
②	大约发端于明代中叶。这个剧种汲取祁剧、京剧、昆曲等剧种的声腔和表演艺术,唱、做、念、舞并重,用桂林方言演唱。
③	在欧洲,一般将发端于古希腊悲剧和喜剧的舞台演出形式称之为 drama,通常译为戏剧。drama 在 20 世纪初传到中国,演员的表演以说话和动作来塑造各种各样的人物形象。

——摘编自《中国大百科全书(第三版)》

(1)根据材料一,对应表格中的序号填写相应的剧种名称(3分,只填字母即可。A.桂剧 B.话剧 C.杂剧)。

①_____ ②_____ ③_____

(2)根据材料一,总结中国戏剧发展的趋势。(4分)

材料二:

19世纪30年代新编历史桂剧《梁红玉》、《桃花扇》和《木兰从军》连续上演,在桂林城引起轰动。三剧都歌颂剧中主角的爱国情操,展现他们崇高的民族气节;抒发被压迫的最底层劳动人民情感;突出抗敌英雄为国献身的伟大情怀;将矛头直指当时的汪精卫汉奸集团和国民党反动派。1992年《瑶妃传奇》、2000年《漓江燕》、2005年《大儒还乡》、2009年《灵渠长歌》等新编桂剧相继获得国家级、省级奖项。这些作品内容都包含桂林的历史、民族风土人情,剧中人物的高尚品质,正是展现了现今广西人民的精神状态。

——摘编自王婷婷《桂剧的调查与研究——以桂林市为中心》

(3)根据材料二,从新编桂剧的成就中归纳戏剧融入时代发展的创作路径。(4分)

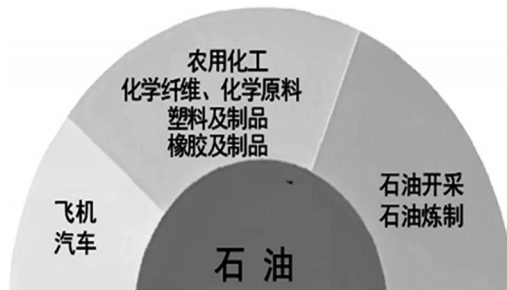
20. (13分)能源为人类的生产活动提供最基本驱动力。阅读材料,回答问题。

材料一:

 <p>唐朝筒车图</p>	 <p>罗马轮式收割机复原图</p>
<p>取水灌田的工具。“旋转时低则舀水,高则泻水”</p>	<p>在欧洲北部使用一种收割机械,是一个由牲畜助推的柜式轮车。</p>

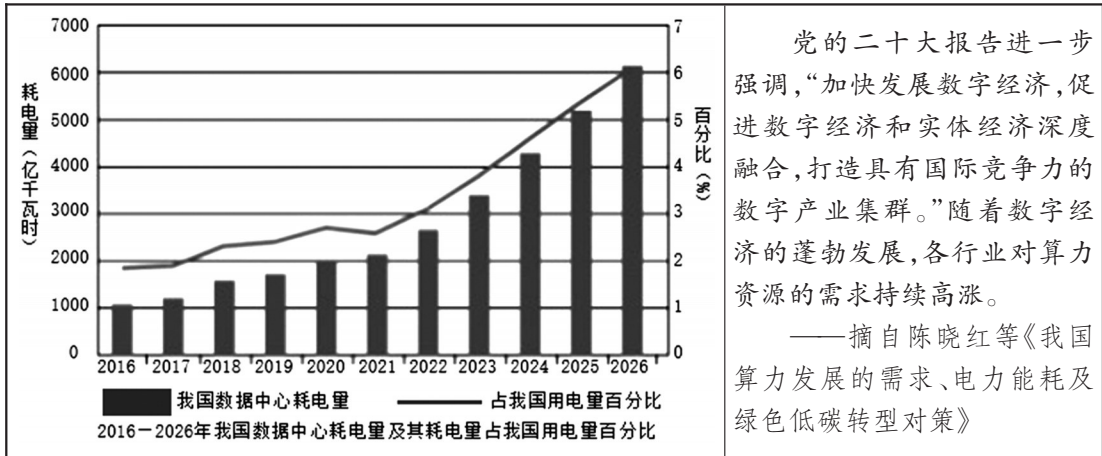
(1)根据材料一,分别指出唐朝和古罗马在生产中使用的动力。(2分)

材料二:第二次工业革命后经济发展示意图。(见下图)



(2)根据材料二,指出第二次工业革命后广泛使用的能源,(1分)并结合所学概括第二次工业革命后经济发展的特点。(4分)

材料三：



党的二十大报告进一步强调，“加快发展数字经济，促进数字经济和实体经济深度融合，打造具有国际竞争力的数字产业集群。”随着数字经济的蓬勃发展，各行业对算力资源的需求持续高涨。

——摘自陈晓红等《我国算力发展的需求、电力能耗及绿色低碳转型对策》

(3)综合上述材料,分析我国数字经济发展的有利条件。(6分)

21. (15分)同学们为认识社会的发展进行了探究。请你参与完成以下三项任务。

任务一:【发现传统智慧】

时期	思想主张
先秦	民惟邦本,本固邦宁。——《尚书》
明清	我之出而仕也,为天下,非为君也;为万民,非为一姓也。 ——黄宗羲《明夷待访录》

(1)根据表格内容,指出黄宗羲的观点与先秦思想的相同与不同之处。(4分)

任务二:【认识传播历程】



(2)根据时间轴中的信息并结合所学,归纳马克思主义传播的表现。(4分)

任务三:【总结成功之道】

<p>《井冈山会师》(局部)</p>	<p>1984年参加天安门国庆游行的深圳彩车</p>	<p>2013年中共中央提出精准扶贫理念</p>
--------------------	----------------------------	--------------------------

(3)从以上图片中任选择一张,围绕图片中的相关史实,根据前两个任务提供的材料并结合所学,拟定一个主题进行阐释。(要求:至少从两个角度进行分析,史论结合,逻辑清晰,结论明确。)(7分)

2026 年 5 月中考适应性训练

历史参考答案

一、选择题（1-18 题，每小题 2 分，共 36 分。）

题号	1	2	3	4	5	6	7	8	9	10	11	12	13	14	15	16	17	18
答案	A	C	A	B	B	B	C	C	A	B	A	D	C	C	B	A	D	A

二、非选择题（19 题 11 分，20 题 13 分，21 题 15 分，共 39 分。）

19.（11 分）

（1）C A B（3 分）

（2）趋势：剧种类型增加；表演形式多样；艺术融合加强。（任答两点，4 分）

（3）创作路径：历史素材的选择；乡土文化的融入；紧跟现实的需求；人物精神的提炼。（任答两点，4 分）

20.（13 分）

（1）唐朝：水力；古罗马：畜力。（2 分，答对一点，得 1 分）

（2）能源：石油；（1 分）

经济发展特点：以重工业为主导；化工行业的举起；交通运输业的进步；石油产业的发展。（任答两点，4 分）

（3）有利条件：电力生产的供应；国家政策的引导；科学技术的发展；产业发展的推动。（任答三点，6 分）

21.（15 分）

（1）相同点：以民为本。（2 分）不同之处：黄宗羲开始批判君主专制。（2 分）

（2）马克思主义发展的表现：影响区域的扩大；马克思主义政党的建立；国际组织的创建；无产阶级革命斗争的实践。（任答两点，4 分）

（3）示例：

主题：井冈山根据地的建设（1 分）

阐释：毛泽东率领革命军队，放弃对中心城市的进攻，向敌人统治力量薄弱的山区进军，建立农村革命根据地，是符合中国实际的革命实践。在根据地的建设中，工农革命军队在井冈山打土豪、分田地，得到当地民众的大力支持，建立起工农民主政权，推动了革命形势的迅速发展。（4 分，从前两个任务中选择两个角度分析）井冈山根据地的建设是中国特色革命道路的重要实践。（2 分，总结要有提升）